

平成29年度 第1回入学試験

受検番号	
氏名	

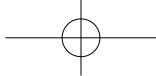
社 会

- 試験開始の合図があるまで、この問題冊子を開いてはいけません。
- 解答用紙は、問題冊子にはさんであります。
- この問題冊子は、1～8ページに印刷してあります。
- 試験時間は、30分です。
- 受検番号と氏名は、問題冊子と解答用紙の両方に書きなさい。
- 文字・記号などを正しくはっきり書き、答えは解答用紙に記入しなさい。



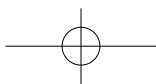
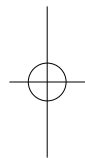
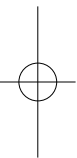
聖徳大学附属女子中学校

SEITOKU



このページは白紙です。

問題は次のページからはじまります。



- 1 次の【A】から【L】の説明文は、お金に関する出来事や日本で発行された紙幣に肖像画がえがかれたことがある人物（文中の〔 〕の人物）に関する出来事をまとめたものです。これを見て設問に答えなさい。（※【B】から【F】については設問の関係により年代を記していません）

【A】

604年〔 1 〕が憲法十七条を定める
 607年〔 1 〕が①中国に小野妹子おののいもこを使節しせつとして派遣はけんする

問1 文中の空らん〔 1 〕にあてはまる人物名を答えなさい。

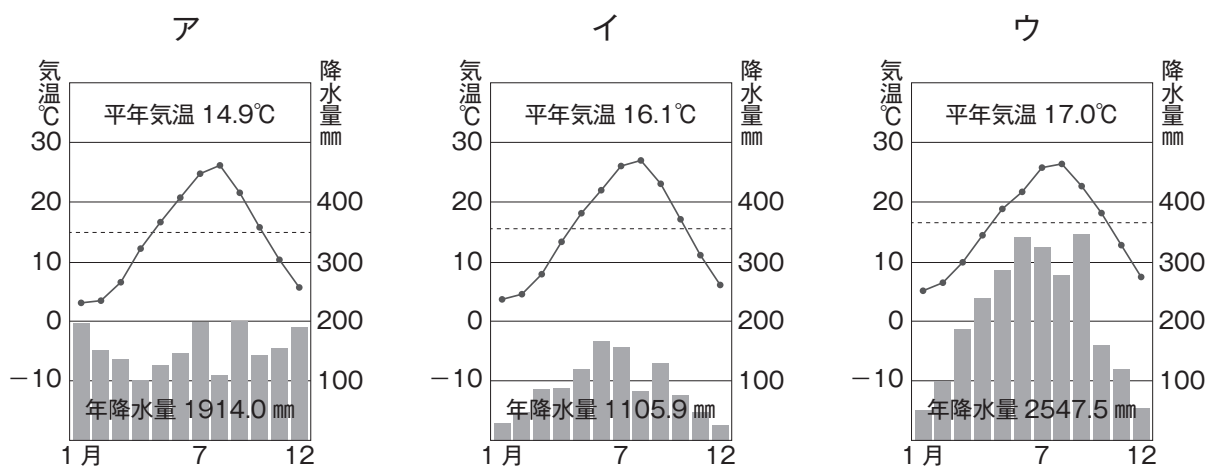
問2 下線部①について、このときの中国は何という国だったか、下のア～エから選んで記号で答えなさい。

ア 唐とう イ 隋ずい ウ 宋そう エ 魏ぎ

【B】

② [和気清麻呂わけのきよまる]のすすめで平安京に都をうつす
 〔 2 〕の意見により遣唐使けんとうしが廃止となる
 [紫式部むらさきしきぶ]があらわした③『源氏物語』が成立

問3 下線部②について、[和気清麻呂]は備前国びぜんのかくに（現在の岡山県）の出身です。岡山県の雨温図はどれか、下のア～ウから選んで記号で答えなさい。また、岡山県の場所はどこか、別紙地図から選んで番号で答えなさい。



[<http://www.nocs.cc/study/uonzujp.htm> (雨温図)]

問4 文中の空らん [2] にあてはまる人物と、彼が当時実権をにぎっていた藤原氏の陰謀により左遷（低い地位に落とされること）された九州の役所の組み合わせとして正しいものはどれか、下のア～エから選んで記号で答えなさい。

- ア 人物－菅原道真 役所－守護
イ 人物－坂上田村麻呂 役所－守護
ウ 人物－坂上田村麻呂 役所－大宰府
エ 人物－菅原道真 役所－大宰府

問5 下線部③について、『源氏物語』があらわされたころの文化を何というか、下のア～エから選んで記号で答えなさい。

- ア 天平文化 イ 北山文化 ウ 元禄文化 エ 国風文化

【C】

[楠木正成]らの活躍により④鎌倉幕府が倒れる

問6 下線部④について、鎌倉幕府が倒れた後に天皇を中心とした「建武の新政」が始まります。この時に中心となった天皇は誰か、下のア～エから選んで記号で答えなさい。

- ア 後醍醐天皇 イ 清和天皇 ウ 桓武天皇 エ 光明天皇

【D】

[中臣鎌足]らが⑤大化の改新とよばれる政治改革をおこなう

問7 下線部⑤について、大化の改新の「大化」とはこのときに定められた初めての元号です。下の語群の中の元号を時代順にならべかえて解答らんに入力しなさい。なお下の元号は漢字になおして記入すること。また元号でないものが一つふくまれているのでそれをのぞいて記入しなさい。

語群

たいしょう めいじ えど しょうわ

【E】

⑥日宋貿易がはじまり、宋銭が大量に輸入され、貨幣の流通が活発になる

問8 下線部⑥について、日宋貿易を奨励した平清盛は、大輪田泊（神戸市）を修築して拠点とした。現在の神戸を含む阪神工業地帯に関する以下の説明文で、波線部（ア）～（エ）の中で間違っているのはどれか、選んで記号で答えなさい。

大阪湾沿岸の（ア）大阪府・兵庫県を中心に発達した、機械・金属など重化学工業を中心にさまざまな工業が集中する総合工業地帯。特徴は（イ）中小工場の割合が多いことで、工業用水を地下水でくみ上げすぎたため、地盤沈下の問題が生じている。第2次世界大戦までは（ウ）日本最大の工業地帯であったが、現在は（エ）日本第3位の工業出荷額をあげている。

【F】

⑦和同開珎がつくられる
[日本武尊] や [武内宿禰] が登場する『3』が完成する

問9 下線部⑦について、和同開珎は武蔵国（東京都・埼玉県）から銅が献上されたことをきっかけにつくられた貨幣です。東京都・埼玉県がある関東地方に関する下の2つの説明文の正誤の組み合わせとして正しいものを下のア～エから選んで記号で答えなさい。

- a：2011年に世界遺産に登録された、東京都に属する大小30あまりの島々を伊豆諸島という。
b：千葉・埼玉・茨城などではほうれんそうやねぎなどの野菜を栽培する近郊農業が行われている。

ア a - 正 b - 正 イ a - 正 b - 誤
ウ a - 誤 b - 正 エ a - 誤 b - 誤

問10 文中の空らん『3』には現存する最古の日本の歴史書の名前が入ります。この歴史書は稗田阿礼が記憶していた歴史を太安万侶が記録したものです。この歴史書の名前を答えなさい。

【G】

1588年 ⑧豊臣秀吉が日本史上最大の貨幣である天正大判をつくらせる

問1 1 下線部⑧について、豊臣秀吉がおこなった、統一されたものさしやますで、土地の面積や収穫高をはかり、さらに土地の耕作者を調べて記録したという政策を何というか答えなさい。

問1 2 上の【A】～【G】の文章を時代の古い順に並べた時正しい順番を下のア～エの中から選んで記号で答えなさい。ただし【A】は一番初めで【G】は一番最後とする。

- ア A→F→D→E→B→C→G イ A→D→F→B→E→C→G
ウ A→B→C→D→E→F→G エ A→C→E→B→F→D→G

【H】

⑨ 1787年 [二宮尊徳] が生まれる

問1 3 下線部⑨について、1787年は寛政の改革が始まった年です。この改革は下の時期の中でいつおこなわれたものか、あてはまるものを選んでア～エの記号で答えなさい。

ア
将軍徳川吉宗が享保の改革をおこなう

イ
老中田沼意次が商人の力を利用した改革をおこなう

ウ
老中水野忠邦が天保の改革をおこなう

エ

【I】

1858年 ⑩ [福沢諭吉] が私塾（のちの慶應義塾）をおこす
⑪ 1871年 [岩倉具視] らが欧米に派遣される

問1 4 下線部⑩について、福沢諭吉が書いた、下の文章の書き出しで始まる書物は何か答えなさい。

「天は人の上に人をつくらず、人の下に人をつくらずといえり。されば天より人を生ずるには、万人は万人みな同じ位にして、生まれながら貴賤上下の差別なく、……」

問15 下線部⑪について、この年はそれまでの藩を廃止して府県をおいた廃藩置県がおこなわれた年で、このときの府知事・県令（現在の都道府県知事）は中央から派遣されましたが、現在の都道府県知事に関する下の文章の空らん（あ）（い）にあてはまる言葉を答えなさい。（ただし空らん（い）には人物名を答えなさい。）

都道府県知事は、地方公共団体の最高行政責任者で、住民による直接選挙で選ばれます。任期は4年で被選挙権は（あ）歳以上です。2016年7月には首都である東京都の知事選挙が行われ、初の女性都知事として（い）が選ばれました。

【J】

- 1881年 ⑫ [板垣退助] が自由党を結成し党首となる
 1885年 [4] が初代内閣総理大臣となる
 ⑬ 1895年 [樋口一葉] が女性の苦悩をえがいた小説「たけくらべ」を発表

問16 下線部⑫について、板垣退助は高知県出身の政治家です。高知県のをのぞく四国地方の残りの3県を答え、またその場所を別紙地図からそれぞれ選び番号で答えなさい。なお県名は下の語群から選び、漢字になおして解答らんに記入すること。

語群	ひろしま県	とくしま県	しまね県	かがわ県
	とっとり県	わかやま県	ふくい県	えひめ県

問17 文中の空らん [4] にあてはまる人物は誰か、下のア～エから選んで記号で答えなさい。

ア 伊藤博文 イ 大久保利通 ウ 大隈重信 エ 井上馨

問18 下線部⑬について、この年に日清戦争が終わり講和条約として下関条約が結ばれました。この下関条約で得た賠償金をもとにつくられた官営の工場は2015年に「明治日本の産業革命遺産」として世界遺産に登録されました。この工場は何か答えなさい。

【K】

- ⑭ 1914年 [夏目漱石] が『ころも』を発表
 1920年 ⑮ [新渡戸稲造] が国際連盟の事務次長に就任する
 ⑯ 1928年 [野口英世] が黄熱病に感染して病死する
 1936年 ⑰ [高橋是清] が暗殺される

問19 下線部⑭について、この年に第1次世界大戦が始まりました。日本がこの戦争に参戦する理由の一つに1902年にある国と結んだ軍事同盟があります。この国の名前とその位置を示す下の地図中 a～c の組み合わせとして正しいものを、下のア～カから選んで記号で答えなさい。



- | | | | |
|---|----------|---|----------|
| ア | a - アメリカ | イ | a - イギリス |
| ウ | b - イギリス | エ | b - ロシア |
| オ | c - ロシア | カ | c - アメリカ |

問20 下線部⑮について、新渡戸稲造は岩手県出身です。岩手県の三陸海岸は陸地がのこぎりの歯のようになっていて水深も深く、天然の良港ができてやすい地形になっています。このような海岸を何というか答えなさい。また、岩手県の場所はどこか別紙地図から選んで番号で答えなさい。

問21 下線部⑯について、この年に最初の衆議院議員普通選挙が実施されました。このときの有権者は満25歳以上のすべての男子でしたが、2015年に公職選挙法が改正されて何歳以上の男女に選挙権があたえられることになったか答えなさい。

問22 下線部⑰について、この事件は軍部主導の内閣を樹立するために陸軍の青年将校らが起こしたもので首相官邸や警視庁などもおそわれました。事件が起きた日付から何とよばれているか答えなさい。

【L】

- 1948年（5）の凶柄の5円硬貨が発行される
⑱1953年 10円硬貨の流通が始まる
1964年 ⑲日本で最初の記念貨幣が発行される
⑳1991年 富本銭が藤原京跡から発掘される
2000年（6）で開催されるサミット（主要国首脳会議）と
西暦2000年をきっかけに2000円券が発行される

問23 文中の空らん（5）には、現在国会が開催されている建物の名前が入ります。右の写真のこの建物の名前は何か答えなさい。



問24 下線部⑱について、この年に1950年から始まった朝鮮戦争の休戦協定が調印されました。朝鮮戦争の時に日本ではマッカーサーの要請により警察予備隊が設置されましたが、これは現在の何という組織のもとになっているか答えなさい。

問25 下線部⑲について、この記念貨幣は東京で夏季オリンピック大会が開催されたことを記念して発行されました。東京で次にオリンピックが開催されるのは何年のことか答えなさい。

問26 下線部⑳について、この年にある国が解体しました。この国は第2次世界大戦後からアメリカと対立し冷戦を展開した社会主義の国です。何という国か答えなさい。

問27 文中の空らん（6）にあてはまる県名を下の説明文を参考に答えなさい。

この地は江戸時代には薩摩藩（現在の鹿児島県）の侵攻を受けて、その支配下におかれました。第2次世界大戦時にははげしい戦いがこの地でくり広げられ、戦後はアメリカ合衆国の統治下におかれましたが、1972年に日本に復帰しました。2000円券には世界遺産に登録されている首里城が描かれています。

[別紙地図]

