

平成29年度 特待入学試験

受検番号	
氏名	

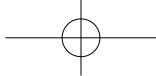
社 会

- 試験開始の合図があるまで、この問題冊子を開いてはいけません。
- 解答用紙は、問題冊子にはさんであります。
- この問題冊子は、1～6ページに印刷してあります。
- 試験時間は、30分です。
- 受検番号と氏名は、問題冊子と解答用紙の両方に書きなさい。
- 文字・記号などを正しくはっきり書き、答えは解答用紙に記入しなさい。



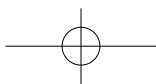
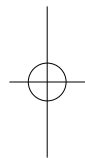
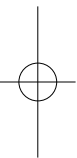
聖徳大学附属女子中学校

SEITOKU



このページは白紙です。

問題は次のページからはじまります。



1 次の文は、日本の社会経済史について述べたものです。これを読んで、あとの問いに答えなさい。

日本の旧石器時代の研究は、①1946年に相沢忠洋という人が関東ローム層から黒曜石でできた打製石器を発見したことから開始されました。旧石器時代の人々は、打製石器を使いオオツノジカやナウマンゾウの狩りをして暮らしていました。

ところが今から1万年以上前氷河時代が終わり、気温が上昇すると日本列島が形成され、縄文時代が始まりました。人々は台地に②住居を建て、狩りや漁、木の実などの採取によって食料を得るようになりました。縄文時代の後期になると、北九州地方では稲作が行われるようになり、弥生時代が始まりました。人々は湿田に種もみを直まきし、(③)と呼ばれる道具で穂先だけを刈り取っていました。稲作が始まると人々は低地に住み、ムラを形成するようになりました。やがてムラが大きくなってくるとムラ同士で争うようになり、争いを通じて大きなムラが作られ、しだいにクニができるようになりました。このような日本の様子は中国の歴史書に記録されるようになり、④最も古い日本の記録によると、紀元前1世紀ころ日本は100あまりのクニに分かれていることが記されています。

646年改新の詔が發布され、大化の改新がスタートしました。すべての土地と人民を国のものとするという方針は、やがて701年の大宝律令で完成され、⑤様々な税のしくみなどが定められました。

しかし⑥奈良時代に入ると、農業技術の進歩にともない、律令政治は崩れ出します。⑦政府は様々な法令を出して公地公民の原則を守ろうとしましたが、ついにはこれを放棄し、土地の私有を認めるようになりました。この結果、貴族や寺社は囲った農民を使って開墾を進め、私有地を増やしていきました。この私有地のことを荘園といいます。

⑧平安時代になると藤原氏をはじめとした貴族らは多くの荘園を所有し、ばく大な収入を得るようになります。一方で荘園の管理は現地にいる武士たちに任せため、やがて彼らが力を持つようになってきました。この関東の武士たちの力を結集し、鎌倉に幕府を開いたのが源頼朝です。

鎌倉時代には、草木灰と呼ばれる肥料や耕作に牛馬を使用するなど技術の進展が見られ、⑨西日本では麦を裏作とする農業が行われるようになりました。また定期市が開かれるようになったり、⑩運送業者や高利貸も登場するなど、経済的な発展が進みました。

さらに室町時代になると⑪中国から大量の銅銭が輸入されるようになり、経済活動もより活発となりました。このような経済的発展を背景として農民たちは、寄合という集まりをたびたび開き、自治を進めていきました。このようなムラを惣村といい、領主に対して⑫一揆を起こすようになりました。

農民への支配が一変したのは、1582年から始まった⑬太閤検地です。この検地では統一された「ます」や「ものさし」で土地の面積や収穫高をはかり、また土地の耕作者も調べて検地帳に記入しました。これにより土地の収穫高に応じて耕作者から税を取り立てるようになり、荘園なども完全に消滅することとなりました。

江戸時代に入ると、新田開発や⑭農具の改良、また金肥と呼ばれる肥料の発達により、農業は大

きく発展しました。さらには近畿地方を中心に手工業が発達した結果、生産過程にも進歩が見られ、18世紀末には⑮分業により生産する方法も行われるようになりました。

明治新政府が樹立されると、日本は明治維新と呼ばれる大改革を行います。1873年には⑯地租改正を行うなど、税制も大きく変わりました。これに伴い生活様式にも大きな変化が起きました。これを⑰文明開化といいます。さらには⑱産業革命を行うなど、日本の経済は飛躍的に向上しました。

しかし太平洋戦争に敗れ敗戦を迎えると、日本の経済は大きな打撃を受けます。戦後日本は政治や⑲経済の民主化を進め、⑳再び経済発展を取り戻していきました。

問1 下線部①について、この遺跡は現在何と呼ばれているか。次のア～オの中から一つ選び記号で答えなさい。

- ア 岩宿遺跡 イ 吉野ヶ里遺跡 ウ 三内丸山遺跡
エ 板付遺跡 オ 加曽利遺跡

問2 下線部②について、この住居を何というか。漢字4文字で答えなさい。

問3 (③) にあてはまる語句を、漢字3文字で答えなさい。

問4 下線部④について、この書物を何というか。次のア～オの中から一つ選び記号で答えなさい。

- ア 『魏志』倭人伝 イ 『後漢書』東夷伝 ウ 『漢書』地理志
エ 『宋書』倭国伝 オ 『日本書紀』

問5 下線部⑤について、この時の税のしくみの説明として誤っているものを、次のア～エの中から一つ選び記号で答えなさい。

- ア 租とは口分田にかかる税であり、収穫の3%を中央政府に納めた。
イ 庸とは都で10日間働くか、代わりに麻布を中央政府に納める税である。
ウ 調とは地方の特産物を中央政府に納める税である。
エ 雑徭とは国司のもと、1年に60日以内働く労役のことである。

問6 下線部⑥について、奈良時代の農民の暮らしの説明として誤っているものを、次のア～エの中から一つ選び記号で答えなさい。

- ア 鉄製農具が広まるようになった。
イ 生活が苦しくなった農民の中には、口分田を捨てて逃げる者も現れた。
ウ 農民の生活の苦しさは『古今和歌集』に収められている山上憶良の「貧窮問答歌」にも見られる。
エ 田植えや根刈りが一般化するようになった。

問7 下線部⑦について、律令政治の時代の土地に関わる法令A～Cを時代の古い順に並べた時、正しい順番を次のア～カの中から一つ選び答えなさい。

- A 三世一身法 B 墾田永年私財法 C 班田収授法
- ア ABC イ ACB ウ BAC
エ BCA オ CAB カ CBA

問8 下線部⑧について、平安時代に起きた出来事A～Cを時代の古い順に並べた時、正しい順番を次のア～カの中から一つ選び答えなさい。

- A 白河上皇が院政を開始した。
B 藤原頼通が平等院鳳凰堂を建立した。
C 坂上田村麻呂が征夷大將軍となり、東北地方を制圧した。
- ア ABC イ ACB ウ BAC
エ BCA オ CAB カ CBA

問9 下線部⑨について、このように年二回収穫することを何というか。漢字3文字で答えなさい。

問10 下線部⑩について、鎌倉時代の運送業者と高利貸の名称の組み合わせとして正しいものを、次のア～エの中から一つ選び答えなさい。

- ア 問丸-土倉 イ 馬借-土倉 ウ 馬借-借上 エ 問丸-借上

問11 下線部⑪について、この時の中国の王朝名を漢字1文字で答えなさい。

問12 下線部⑫について、室町時代に起こった一揆A～Cを時代の古い順に並べた時、正しい順番を次のア～カの中から一つ選び答えなさい。

A ^{しょうちやう どいっき} 正長の土一揆 B ^{やましる くに} 山城の国一揆 C ^{か が いっこう} 加賀の一向一揆

ア ABC イ ACB ウ BAC
エ BCA オ CAB カ CBA

問13 下線部⑬について、この検地について書かれたものとして正しいものを、次のア～エの中から一つ選び記号で答えなさい。

- ア ^{しょこく} 諸国の百姓が刀、脇差、弓、槍、鉄砲、その他武具を持つことを禁止する。
イ もしも命令に従わない者がいる場合、^{したが}城主ならばその者を城に追い込み一人も残さず切っ飛ばす。農民に対しても同じだ。
ウ 武士であるにもかかわらず以後、^{ちょうにん}あらたに町人や百姓になる者があつたら、取り調べ、いっさい許してはならない。
エ 朝は早起きして草を刈り、昼間は田畑を耕作し、^{ばん なわ たわら}晩には縄をない俵を作れ。

問14 下線部⑭について、江戸時代の農具の説明として誤っているものを、次のア～エの中から一つ選び記号で答えなさい。

- ア 深く耕せる道具として、^{びちゅうぐわ}備中鍬が使われた。
イ ^{だっこく}脱穀する道具として、^{せんぼ}千歯こきが使われた。
ウ ^{ふうりょく}風力を利用して水をくみ上げる道具として、^{とう}唐みが使われた。
エ ^{げんまい}玄米ともみを選別する道具として、^{せんごく}千石とおしが使われた。

問15 下線部⑮について、この方法を何というか。カタカナ9文字で答えなさい。

問16 下線部⑯について、地租改正の説明として誤っているものを、次のア～エの中から一つ選び記号で答えなさい。

- ア 全国の土地を^{そくりやう}測量し、^{ち か}地価を定め、土地所有者に^{ちけん}地券を発行した。
イ 政府は現金で税を納めさせることで、^{ぜいしやう}税収を安定させようとした。
ウ 地券に書かれている地価の3%を土地所有者に現金で収めさせた。
エ 各地で^{ぜいりつ}税率を下げることを要求した一揆が起こったが、^{へんこう}税率が変更されることはなかった。

問17 下線部⑰について、文明開化の説明として誤っているものを、次のア～エの中から一つ選び記号で答えなさい。

- ア 洋風の建築物やガス灯が作られ、新聞も発行されるようになった。
- イ 1871年には、新島襄が郵便制度を設立した。
- ウ 1872年には新橋－横浜間で鉄道が開通した。
- エ 1872年に学制を定め、各地に小学校が作られた。

問18 下線部⑱について、産業革命の説明として誤っているものを、次のア～エの中から一つ選び記号で答えなさい。

- ア 日清戦争前後に、紡績業を中心とした軽工業が発達した。
- イ 日清戦争後には、生糸の輸出額・生産額が世界一となった。
- ウ 1901年には官営の八幡製鉄所が操業を開始した。
- エ 日露戦争後には重工業が発達する、第二次産業革命が起こった。

問19 下線部⑲について、農村の民主化として、政府が地主から強制的に土地を買い取り、小作人に安く売り渡す政策を何というか。漢字4文字で答えなさい。

問20 下線部⑳について、戦後の経済発展に関する出来事A～Cを時代の古い順に並べた時、正しい順番を次のア～カの中から一つ選び答えなさい

- A 間接税として消費税が導入された。
- B 高度経済成長が始まり、日本の国民総生産が資本主義諸国中第2位となった。
- C 株価と地価の上昇に支えられた、バブル景気が始まった。

- ア ABC イ ACB ウ BAC
- エ BCA オ CAB カ CBA

- 2 次の表を見て、①～⑩に当てはまる都道府県名を漢字で答えなさい。ただし、各項目の中で最大の数値は、「総面積」以外はすべて全国1位のものである。

項目	総面積 km ²	米 t	さつまいも t	みかん t	なし t	レタス t	マグロ類 t	清酒 kl	製造品 出荷額 億円
①	13562	202400	1440	－	16100	193300	－	8227	51542
②	9188	105600	336300	14800	1040	5710	19848	－	18238
③	4725	35600	1060	173700	637	892	965	2192	29888
④	5158	336000	108500	1360	33500	9290	360	6366	130507
⑤	15275	309100	396	－	625	8970	5592	4214	22807
⑥	12584	656900	4000	20	11700	－	1632	39071	44414
⑦	1905	27500	2070	13600	60	349	－	906	162243
⑧	7779	86400	11900	124900	2720	19700	27009	3762	157766
⑨	8401	184600	3110	2150	1480	3400	6	130349	140969
⑩	5172	147700	6370	29600	6950	5980	－	14045	421559

「－」はデータなし
(県勢2016年度版より作成)

